

تم تحميل وعرض المادة من

موقع حلول كتبي

المدرسة أونلاين



موقع

حلول كتبي

<https://hululkitab.co>



للعودة إلى الموقع إبحث في قوقل عن: موقع حلول كتبي

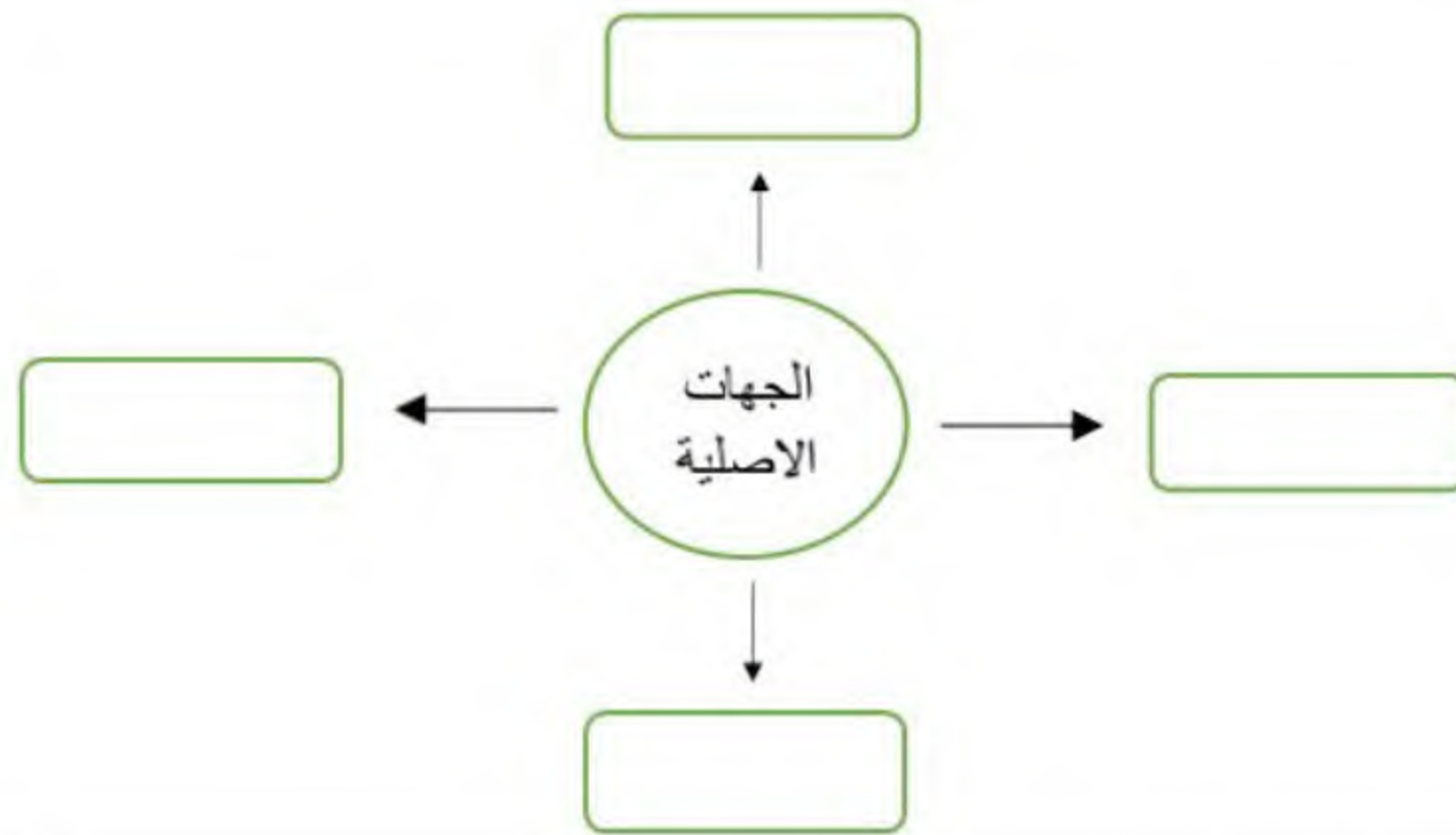
الصف:

اسم الطالب/ة:

السؤال الأول: أ) اختار الإجابة الصحيحة في كلا مما يأتي		11 درجات	
1	هي كل ما يتعلق بالكرة الأرضية وتكوينها	أ	جغرافيا
		ب	تاريخ
		ج	اقتصاد
		د	حكومة
2	من أسئلة الجغرافيا	أ	أين هو ؟
		ب	ماذا حدث ؟
		ج	متى حدث ؟
		د	من شارك في الحدث؟
3	انتقال الناس ونقل البضائع من مكان لآخر يسمى	أ	حركة
		ب	طبيعة
		ج	بيئة
		د	موقع
4	يقع وطني المملكة العربية السعودية في قارة	أ	اسيا
		ب	افريقيا
		ج	اوروبا
		د	امريكا
5	جزء محدد على الأرض صغيراً أو كبيراً يسمى	أ	مكان
		ب	اقتصاد
		ج	بيئة
		د	تاريخ
6	هو تحول الأرض الخصبة الى أرض صحراوية مع مرور الزمن	أ	طبيعة
		ب	تصحّر
		ج	حياة فطرية
		د	غابات
7	من الحيوانات البرية التي تعيش في بيئة المملكة العربية السعودية	أ	الفيل
		ب	الغزال
		ج	الدب
		د	الأسد
8	من طرق حركة البضائع حركة	أ	السياحة
		ب	التمور
		ج	الدراسة
		د	العمل
9	يسمى الشخص الذي يدرس الجغرافيا	أ	اقتصادي
		ب	جغرافي
		ج	مؤرخ
		د	عالم
10	هو كل ما ينتج ويصنع مما يحتاج له الانسان ويستهلكه	أ	اقتصاد
		ب	سلع
		ج	تجارة
		د	ميزان تجاري
11	من أنواع الإنتاج المادي	أ	التعليم
		ب	صناعة السيارات
		ج	الصحة
		د	الكهرباء

	10 درجات	(ب) ضع علامة (صح) أمام العبارة الصحيحة وعلامة (خطأ) أمام العبارة الخاطئة :
(1)		رسم الانسان الخرائط واستعملها من الاف السنين .
(2)		تمكننا الخرائط من معرفة الأماكن والمواقع .
(3)		الشمال الشرقي من الجهات الفرعية .
(4)		تستورد المملكة من الخارج بعض الفواكة والالكترونيات
(5)		من طرق استفادة الانسان من التربة الخصبة استخدامها في الزراعة .
(6)		العنوان الوطني هو رموز وأسماء لمكان محدد لسهولة الوصول اليه .
(7)		الجغرافيا نوعان طبيعية وبشرية .
(8)		التعليم والصحة من الإنتاج المادي .
(9)		ترك بقايا الطعام بعد الانتهاء من النزهة سلوك سليم .
(10)		يعتبر شراء الدواء من الصيدلية انتاج .

	4 درجات	السؤال الثاني: أ) حدد الجهات الاصلية
--	---------	--------------------------------------



	5 درجات	(ب) صنف السلع الضرورية والغير ضرورية في الجدول التالي:
--	---------	--

السيارات الفارهة \ الملابس \ المجوهرات \ الدواء \ الغذاء

سلع غير ضرورية	سلع ضرورية

مع أطيب التمنيات لك بالتوفيق والنجاح الباهر

معلمة المادة:

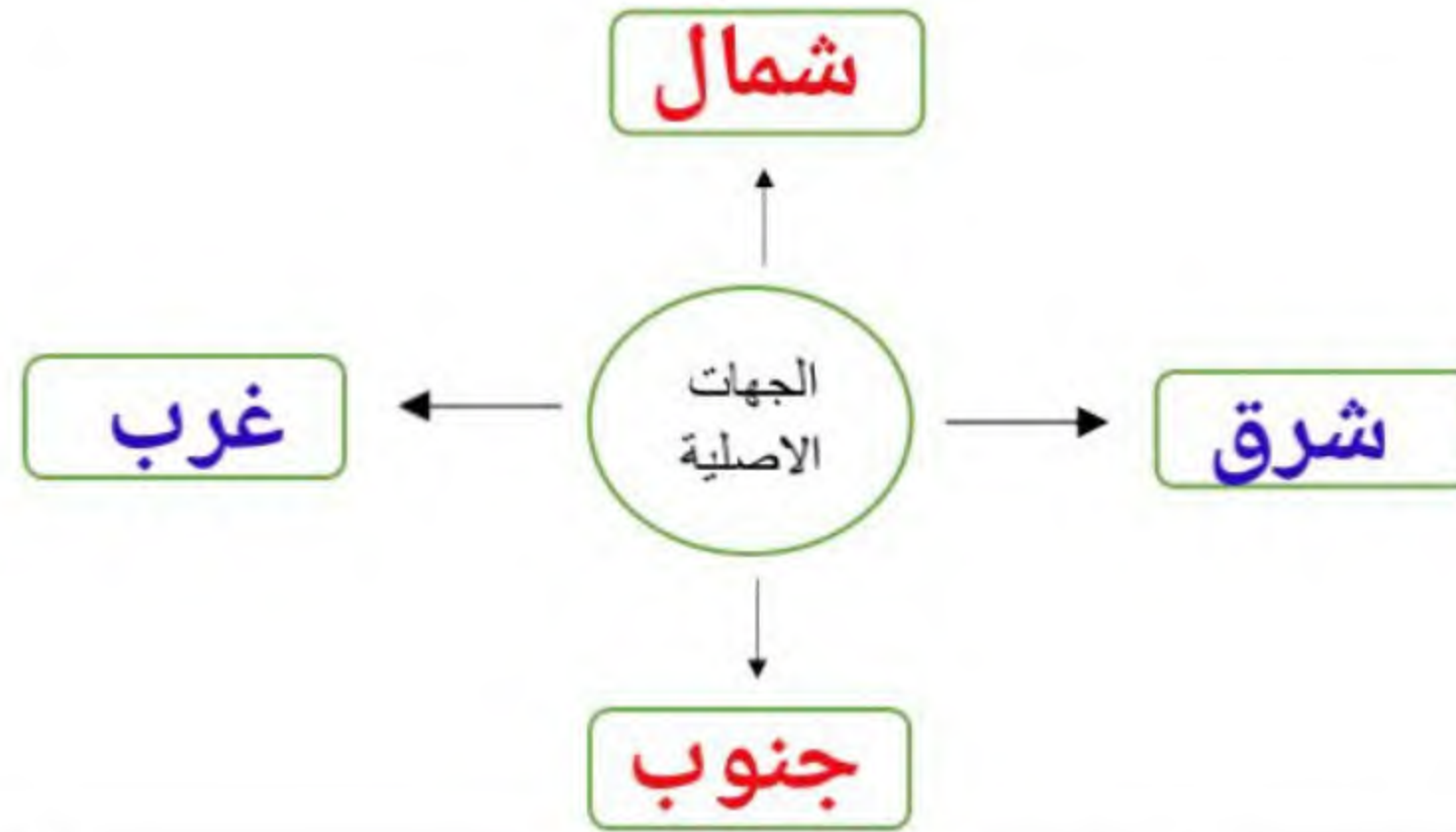
اختبار مادة اجتماعيات لصف الرابع الابتدائي الفترة الثانية لعام 1447هـ

اسم الطالبة: **نموذج الإجابة:**

السؤال الأول: أ) اختاري الإجابة الصحيحة في كلا مما يأتي	11 درجات
(1) هي كل ما يتعلق بالكرة الأرضية وتكوينها	
أ) جغرافيا	ب) تاريخ
ج) اقتصاد	د) حكومة
(2) من أسئلة الجغرافيا	
أ) أين هو؟	ب) ماذا حدث؟
ج) متى حدث؟	د) من شارك في الحدث؟
(3) انتقال الناس ونقل البضائع من مكان لآخر يسمى	
أ) حركة	ب) طبيعة
ج) بيئة	د) موقع
(4) يقع وطني المملكة العربية السعودية في قارة	
أ) اسيا	ب) افريقيا
ج) اوروبا	د) امريكا
(5) جزء محدد على الأرض صغيراً أو كبيراً يسمى	
أ) مكان	ب) اقتصاد
ج) بيئة	د) تاريخ
(6) هو تحول الأرض الخصبة الى أرض صحراوية مع مرور الزمن	
أ) طبيعة	ب) تصحر
ج) حياة فطرية	د) غابات
(7) من الحيوانات البرية التي تعيش في بيئة المملكة العربية السعودية	
أ) الفيل	ب) الغزال
ج) الدب	د) الأسد
(8) من طرق حركة البضائع حركة	
أ) السياحة	ب) التمور
ج) الدراسة	د) العمل
(9) يسمى الشخص الذي يدرس الجغرافيا	
أ) اقتصادي	ب) جغرافي
ج) مؤرخ	د) عالم
(10) هو كل ما ينتج ويصنع مما يحتاج له الانسان ويستهلكه	
أ) اقتصاد	ب) سلع
ج) تجارة	د) ميزان تجاري
(11) من أنواع الإنتاج المادي	
أ) التعليم	ب) صناعة السيارات
ج) الصحة	د) الكهرباء

10 درجات	(ب) ضعي علامة () أمام العبارة الصحيحة وعلامة () أمام العبارة الخاطئة
✓	(1) رسم الانسان الخرائط واستعملها من الاف السنين .
✓	(2) تمكننا الخرائط من معرفة الأماكن والمواقع .
✓	(3) الشمال الشرقي من الجهات الفرعية .
✓	(4) تستورد المملكة من الخارج بعض الفواكة والالكترونيات
✓	(5) من طرق استفادة الانسان من التربة الخصبة استخدامها في الزراعة .
✓	(6) العنوان الوطني هو رموز وأسماء لمكان محدد لسهولة الوصول اليه .
✓	(7) الجغرافيا نوعان طبيعية وبشرية .
✗	(8) التعليم والصحة من الإنتاج المادي .
✗	(9) ترك بقايا الطعام بعد الانتهاء من النزهة سلوك سليم .
✗	(10) يعتبر شراء الدواء من الصيدلية انتاج .

4 درجات	السؤال الثاني: (أ) حددي الجهات الاصلية
---------	--



5 درجات	(ب) صنفی السلع الضرورية والغير ضرورية في الجدول التالي
---------	--

السيارات الفارهة \ الملابس \ المجوهرات \ الدواء \ الغذاء

سلع غير ضرورية	سلع ضرورية
المجوهرات	الدواء
السيارات الفارهة	الغذاء
	الملابس

مع أطيب التمنيات لك بالتوفيق والنجاح الباهر

معلمة المادة:

المادة : الدراسات الاجتماعية		إدارة تعليم	المملكة العربية السعودية
الصف: الرابع الابتدائي		مدرسة	وزارة التعليم
اختبار الوحدة الثالثة			اسم الطالب/ة:

السؤال الأول: اختر الإجابة الصحيحة فيما يلي بوضع دائرة عليها:

يسهل موقع المملكة العربية السعودية الحركة لأنه يربط بين قارات:	١
أمريكا الشمالية، أمريكا الجنوبية، وأفريقيا	أ
آسيا، أفريقيا، وأوروبا	ب
أوروبا، أستراليا، وآسيا	ج
أمريكا الشمالية، أمريكا الجنوبية، وأفريقيا	د
تقع المملكة العربية السعودية في أقصى الجنوب الغربي من قارة ...	٢
أفريقيا	أ
أوروبا	ب
آسيا	ج
أستراليا	د
من أهم صادرات المملكة العربية السعودية؟	٣
الإلكترونيات	أ
النفط	ب
السيارات	ج
الفواكه الاستوائية	د
انتقال البضائع من دولة أخرى إلى داخل المملكة يسمى:	٤
تصدير	أ
استيراد	ب
سياحة	ج
صناعة	د
العلم الذي يدرس الأرض وما عليها من جبال وأنهار ومدن يسمى علم...	٥
التاريخ	أ
الجغرافيا	ب
الرياضيات	ج
العلوم	د
عندما نريد أن نعرف مكان مدينة ما، فإننا نستخدم...	٦
الساعة	أ
ميزان الحرارة	ب
الخريطة	ج
المسطرة	د
أي من التالي يعتبر من المظاهر الطبيعية؟	٧
الجسر	أ
النهر	ب
البيت	ج
الطريق	د
الجهة التي تقع بين الشمال والشرق هي:	٨
الشمال الغربي	أ
الجنوب الشرقي	ب
الجنوب الغربي	ج
الشمال الشرقي	د
عندما تكون الشمس أمامك في الصباح، فإن جهة الغرب تكون:	٩
أمامك	أ
خلفك	ب
على يمينك	ج
على يسارك	د
تساعدنا معرفة الاتجاهات في تحديد:	١٠
الوقت	أ
درجة الحرارة	ب
اتجاه القبلة	ج
فصول السنة	د
من مكونات العنوان الوطني؟	١١
لون المبنى	أ
اسم مدير المدرسة	ب
الرمز البريدي	ج
عدد السكان	د

١٢	التعريف الأنسب لكلمة "المكان"؟						
أ	كوكب في الفضاء	ب	جزء محدد على سطح الأرض	ج	فصل من فصول السنة	د	اسم شارع فقط
١٣	الهدف الرئيسي من إنشاء المحميات الطبيعية؟						
أ	بناء مصانع جديدة	ب	حماية النباتات والحيوانات المهددة بالانقراض	ج	توفير أماكن لرمي النفايات	د	استخراج المعادن الثمينة
١٤	المدينة التي تقع على شاطئ البحر تسمى مدينة:						
أ	جبلية	ب	صحراوية	ج	ساحلية	د	داخلية
١٥	واحة الأحساء هي مكان سياحي يشتهر بـ:						
أ	الجبال العالية	ب	كثرة النخيل والعيون	ج	المباني الشاهقة	د	الأسواق القديمة

السؤال الثاني : ضع إشارة (✓) امام الإجابة الصحيحة وإشارة (×) أمام الإجابة الخاطئة:

١	تقتصر الحركة على انتقال البضائع فقط ولا تشمل حركة الناس.
٢	تصدير السلع يعني بيعها وإرسالها إلى دول أخرى.
٣	تستورد المملكة العربية السعودية التمور لندرتها في البلاد.
٤	تساعد الحركة على حصول الناس على احتياجاتهم من السلع والمنتجات.
٥	الجغرافيا الطبيعية تدرس كيفية بناء الإنسان للمدن.
٦	تساعدنا الخرائط على تحديد المواقع ومعرفة الأماكن.
٧	تفاعل الإنسان مع المكان الذي يعيش فيه يسمى البيئة.
٨	تستخدم الأجهزة الحديثة مثل الهواتف الذكية في تحديد المواقع.
٩	جدة التاريخية هي مثال على مكان سياحي حديث جداً.
١٠	يأتي الكثير من الناس إلى المملكة العربية السعودية بهدف العمل.
١١	استخدام المدفأة في فصل الشتاء هو شكل من أشكال تعديل البيئة.
١٢	الحفاظ على نظافة المكان الذي نزوره هو من التعامل السليم مع البيئة.
١٣	يُسمح بالصيد داخل المحميات الطبيعية للحفاظ على التوازن البيئي.
١٤	قطع الأشجار بشكل جائر يمكن أن يؤدي إلى حدوث التصحر.
١٥	تحول الأراضي الخصبة إلى أراضٍ صحراوية بسبب الجفاف أو سوء الاستخدام يسمى "التصحر"

انتهت الأسئلة

موقع
حلول كتيبي

نموذج الإجابة

السؤال الأول: اختر الإجابة الصحيحة فيما يلي بوضع دائرة عليها:

يسهل موقع المملكة العربية السعودية الحركة لأنه يربط بين قارات:	١
أمريكا الشمالية، أمريكا الجنوبية، وأفريقيا	أ
آسيا، أفريقيا، وأوروبا	ب
أوروبا، أستراليا، وآسيا	ج
أمريكا الشمالية، أمريكا الجنوبية، وأفريقيا	د
تقع المملكة العربية السعودية في أقصى الجنوب الغربي من قارة ...	٢
أفريقيا	أ
أوروبا	ب
آسيا	ج
أستراليا	د
من أهم صادرات المملكة العربية السعودية؟	٣
الإلكترونيات	أ
النفط	ب
السيارات	ج
الفواكه الاستوائية	د
انتقال البضائع من دولة أخرى إلى داخل المملكة يسمى:	٤
تصدير	أ
استيراد	ب
سياحة	ج
صناعة	د
العلم الذي يدرس الأرض وما عليها من جبال وأنهار ومدن يسمى علم...	٥
التاريخ	أ
الجغرافيا	ب
الرياضيات	ج
العلوم	د
عندما نريد أن نعرف مكان مدينة ما، فإننا نستخدم...	٦
الساعة	أ
ميزان الحرارة	ب
الخريطة	ج
المسطرة	د
أي من التالي يعتبر من المظاهر الطبيعية؟	٧
الجسر	أ
النهر	ب
البيت	ج
الطريق	د
الجهة التي تقع بين الشمال والشرق هي:	٨
الشمال الغربي	أ
الجنوب الشرقي	ب
الجنوب الغربي	ج
الشمال الشرقي	د
عندما تكون الشمس أمامك في الصباح، فإن جهة الغرب تكون:	٩
أمامك	أ
خلفك	ب
على يمينك	ج
على يسارك	د
تساعدنا معرفة الاتجاهات في تحديد:	١٠
الوقت	أ
درجة الحرارة	ب
اتجاه القبلة	ج
فصول السنة	د
من مكونات العنوان الوطني؟	١١
لون المبنى	أ
اسم مدير المدرسة	ب
الرمز البريدي	ج
عدد السكان	د

١٢	التعريف الأنسب لكلمة "المكان"؟				
أ	كوكب في الفضاء	ب	جزء محدد على سطح الأرض	ج	فصل من فصول السنة
١٣	الهدف الرئيسي من إنشاء المحميات الطبيعية؟				
أ	بناء مصانع جديدة	ب	حماية النباتات والحيوانات المهددة بالانقراض	ج	توفير أماكن لرمي النفايات
١٤	المدينة التي تقع على شاطئ البحر تسمى مدينة:				
أ	جبلية	ب	صحراوية	ج	ساحلية
١٥	واحة الأحساء هي مكان سياحي يشتهر ب:				
أ	الجبال العالية	ب	كثرة النخيل والعيون	ج	المباني الشاهقة
					د
					داخلية
					استخراج المعادن الثمينة
					اسم شارع فقط

السؤال الثاني : ضع إشارة (✓) امام الإجابة الصحيحة وإشارة (×) أمام الإجابة الخاطئة:

١	تقتصر الحركة على انتقال البضائع فقط ولا تشمل حركة الناس.	×
٢	تصدير السلع يعني بيعها وإرسالها إلى دول أخرى.	✓
٣	تستورد المملكة العربية السعودية التمور لندرتهما في البلاد.	×
٤	تساعد الحركة على حصول الناس على احتياجاتهم من السلع والمنتجات.	✓
٥	الجغرافيا الطبيعية تدرس كيفية بناء الإنسان للمدن.	×
٦	تساعدنا الخرائط على تحديد المواقع ومعرفة الأماكن.	✓
٧	تفاعل الإنسان مع المكان الذي يعيش فيه يسمى البيئة.	✓
٨	تستخدم الأجهزة الحديثة مثل الهواتف الذكية في تحديد المواقع.	✓
٩	جدة التاريخية هي مثال على مكان سياحي حديث جداً.	×
١٠	يأتي الكثير من الناس إلى المملكة العربية السعودية بهدف العمل.	✓
١١	استخدام المدفأة في فصل الشتاء هو شكل من أشكال تعديل البيئة.	×
١٢	الحفاظ على نظافة المكان الذي نزوره هو من التعامل السليم مع البيئة.	✓
١٣	يُسمح بالصيد داخل المحميات الطبيعية للحفاظ على التوازن البيئي.	×
١٤	قطع الأشجار بشكل جائر يمكن أن يؤدي إلى حدوث التصحر.	✓
١٥	تحول الأراضي الخصبة إلى أراضٍ صحراوية بسبب الجفاف أو سوء الاستخدام يسمى "التصحر"	✓

انتهت الأسئلة

المملكة العربية السعودية	إدارة تعليم	المادة : الدراسات الاجتماعية
وزارة التعليم	مدرسة	الصف: الرابع الابتدائي
اسم الطالب/ة:		اختبار الوحدة الرابعة

الاسم :

السؤال الأول: اختر الإجابة الصحيحة لكل فقرة من الفقرات التالية:

أي من التالي يعتبر مثلاً على الإنتاج غير المادي الخدمات؟	صناعة السيارات	إنتاج الحليب	العلاج في المستشفيات	صناعة الهواتف
عملية تحويل القطن إلى ملابس تسمى	استهلاكاً	إنتاجاً	توزيعاً	تبادلاً
أي من هذه السلع يعد من السلع الضرورية؟	المجوهرات	السيارة الفارهة	الملابس الأساسية	الألعاب الإلكترونية
كل ما يتعلق بإنتاج السلع والخدمات وتوزيعها وتبادلها واستهلاكها يسمى	الإنتاج فقط	الاستهلاك فقط	التجارة	النشاط الاقتصادي
صناعة التمور وزيت الزيتون هي مثال على	إنتاج غير مادي	إنتاج مادي	خدمات سياحية	خدمات تعليمية
أي من التالي يعتبر مثلاً على الموارد البشرية؟	النفط	الطبيب	المصنع	المال
القدرة على تحريك الآلات والمعدات تسمى	الاستهلاك	الادخار	الطاقة	الإنتاج
تخصيص جزء من المال وحفظه للمستقبل هو	استهلاك	إنتاج	استثمار	ادخار
الماء والأشجار والتربة هي أمثلة على الموارد	البشرية	الطبيعية	رأس المال	الصناعية
استعمال الموارد والأموال باعتدال يسمى	ترشيد الاستهلاك	الإسراف	الإنتاج	التجارة
الطريقة القديمة لشراء السلع قبل ظهور النقود كانت تسمى	التحويل البنكي	المقايضة	البطاقة الإلكترونية	الدفع النقدي
أي من التالي يعد من فوائد التبادل التجاري؟	شراء سلع لا تُصنع في وطننا	صنع كل شيء نحتاجه داخل وطننا فقط	الاعتماد على المقايضة فقط	جعل التجارة بطيئة وصعبة

: عندما تشتري من متجر باستخدام بطاقة الصراف الآلي، فإن هذه الطريقة تسمى				١٣
مقايضة	هدية	دفع إلكتروني	اقتراض	
: من الأمثلة على السلع التي يبيعها وطننا (المملكة العربية السعودية) للدول الأخرى				١٤
السيارات	الأجهزة الإلكترونية	النفط والتمور	بعض أنواع الفواكه الاستوائية	
: سبب حرص الأب على شراء السلع المصنعة في المملكة العربية السعودية هو				١٥
لأنها أرخص دائماً	لدعم اقتصاد وطنه	لأنها الطريقة الوحيدة للشراء	لأنها سلع قديمة	

السؤال الثاني :

حدد كلمة صح أو خطأ لكل فقرة من الفقرات الآتية:

١	السلع الضرورية هي التي يمكن الاستغناء عنها مثل السيارات الفارهة
٢	التعليم في المدارس والسياحة هما من أمثلة الإنتاج غير المادي
٣	الإنتاج هو عملية استخدام السلع والخدمات فقط
٤	النشاط الاقتصادي يبدأ بالإنتاج وينتهي بالاستهلاك
٥	الملابس الأساسية والطعام يعتبران من السلع غير الضرورية
٦	المعلم الذي يشرح الدرس يعتبر من الموارد الطبيعية
٧	الطاقة الشمسية وطاقة الرياح هي من أنواع الطاقة المتجددة
٨	الادخار يساعد على تحقيق الأهداف وشراء الحاجات في المستقبل
٩	شراء الأشياء باهظة الثمن دائماً هو من صور ترشيد الاستهلاك
١٠	المصانع والمعدات تعد من رأس المال الذي يساعد في الإنتاج
١١	التبادل التجاري هو تداول السلع والخدمات بين الناس فقط، ولا يشمل الدول
١٢	في الماضي، كان التبادل التجاري يستغرق وقتاً طويلاً بسبب صعوبة المواصلات
١٣	شراء جهاز إلكتروني من دولة أخرى يعتبر مثلاً على فوائد التبادل التجاري
١٤	العملة المستخدمة في جميع دول العالم هي نفسها
١٥	مقايضة خمس تفاحات بأربع برتقالات تعتبر شكلاً من أشكال التبادل التجاري

انتهت الأسئلة

موقع
حلول كتيبي

نموذج الإجابة

الاسم :

السؤال الأول: اختر الإجابة الصحيحة لكل فقرة من الفقرات التالية:

أي من التالي يعتبر مثالاً على الإنتاج غير المادي الخدمات؟	صناعة السيارات	إنتاج الحليب	العلاج في المستشفيات	صناعة الهواتف	١
عملية تحويل القطن إلى ملابس تسمى:	استهلاكاً	إنتاجاً	توزيعاً	تبادلاً	٢
أي من هذه السلع يعد من السلع الضرورية؟	المجوهرات	السيارة الفارهة	الملابس الأساسية	الألعاب الإلكترونية	٣
كل ما يتعلق بإنتاج السلع والخدمات وتوزيعها وتبادلها واستهلاكها يسمى:	الإنتاج فقط	الاستهلاك فقط	التجارة	النشاط الاقتصادي	٤
صناعة التمور وزيت الزيتون هي مثال على:	إنتاج غير مادي	إنتاج مادي	خدمات سياحية	خدمات تعليمية	٥
أي من التالي يعتبر مثالاً على الموارد البشرية؟	النفط	الطبيب	المصنع	المال	٦
القدرة على تحريك الآلات والمعدات تسمى:	الاستهلاك	الادخار	الطاقة	الإنتاج	٧
تخصيص جزء من المال وحفظه للمستقبل هو:	استهلاك	إنتاج	استثمار	ادخار	٨
الماء والأشجار والتربة هي أمثلة على الموارد:	البشرية	الطبيعية	رأس المال	الصناعية	٩
استعمال الموارد والأموال باعتدال يسمى:	ترشيد الاستهلاك	الإسراف	الإنتاج	التجارة	١٠
الطريقة القديمة لشراء السلع قبل ظهور النقود كانت تسمى:	التحويل البنكي	المقايضة	البطاقة الإلكترونية	الدفع النقدي	١١
أي من التالي يعد من فوائد التبادل التجاري؟	شراء سلع لا تُصنع في وطننا	صنع كل شيء نحتاجه داخل وطننا فقط	الاعتماد على المقايضة فقط	جعل التجارة بطيئة وصعبة	١٢

: عندما تشتري من متجر باستخدام بطاقة الصراف الآلي، فإن هذه الطريقة تسمى				١٣
مقايضة	هدية	دفع إلكتروني	اقتراض	
: من الأمثلة على السلع التي يبيعها وطننا (المملكة العربية السعودية) للدول الأخرى				١٤
السيارات	الأجهزة الإلكترونية	النفط والتمور	بعض أنواع الفواكه الاستوائية	
: سبب حرص الأب على شراء السلع المصنعة في المملكة العربية السعودية هو				١٥
لأنها أرخص دائماً	لدعم اقتصاد وطنه	لأنها الطريقة الوحيدة للشراء	لأنها سلع قديمة	

السؤال الثاني :

حدد كلمة صح أو خطأ لكل فقرة من الفقرات الآتية:

×	١	السلع الضرورية هي التي يمكن الاستغناء عنها مثل السيارات الفارهة
✓	٢	التعليم في المدارس والسياحة هما من أمثلة الإنتاج غير المادي
×	٣	الإنتاج هو عملية استخدام السلع والخدمات فقط
✓	٤	النشاط الاقتصادي يبدأ بالإنتاج وينتهي بالاستهلاك
×	٥	الملابس الأساسية والطعام يعتبران من السلع غير الضرورية
×	٦	المعلم الذي يشرح الدرس يعتبر من الموارد الطبيعية
✓	٧	الطاقة الشمسية وطاقة الرياح هي من أنواع الطاقة المتجددة
✓	٨	الادخار يساعد على تحقيق الأهداف وشراء الحاجات في المستقبل
×	٩	شراء الأشياء باهظة الثمن دائماً هو من صور ترشيد الاستهلاك
✓	١٠	المصانع والمعدات تعد من رأس المال الذي يساعد في الإنتاج
×	١١	التبادل التجاري هو تداول السلع والخدمات بين الناس فقط، ولا يشمل الدول
✓	١٢	في الماضي، كان التبادل التجاري يستغرق وقتاً طويلاً بسبب صعوبة المواصلات
✓	١٣	شراء جهاز إلكتروني من دولة أخرى يعتبر مثلاً على فوائد التبادل التجاري
×	١٤	العملة المستخدمة في جميع دول العالم هي نفسها
✓	١٥	مقايضة خمس تفاحات بأربع برتقالات تعتبر شكلاً من أشكال التبادل التجاري

انتهت الأسئلة

موقع
حلول كتيب

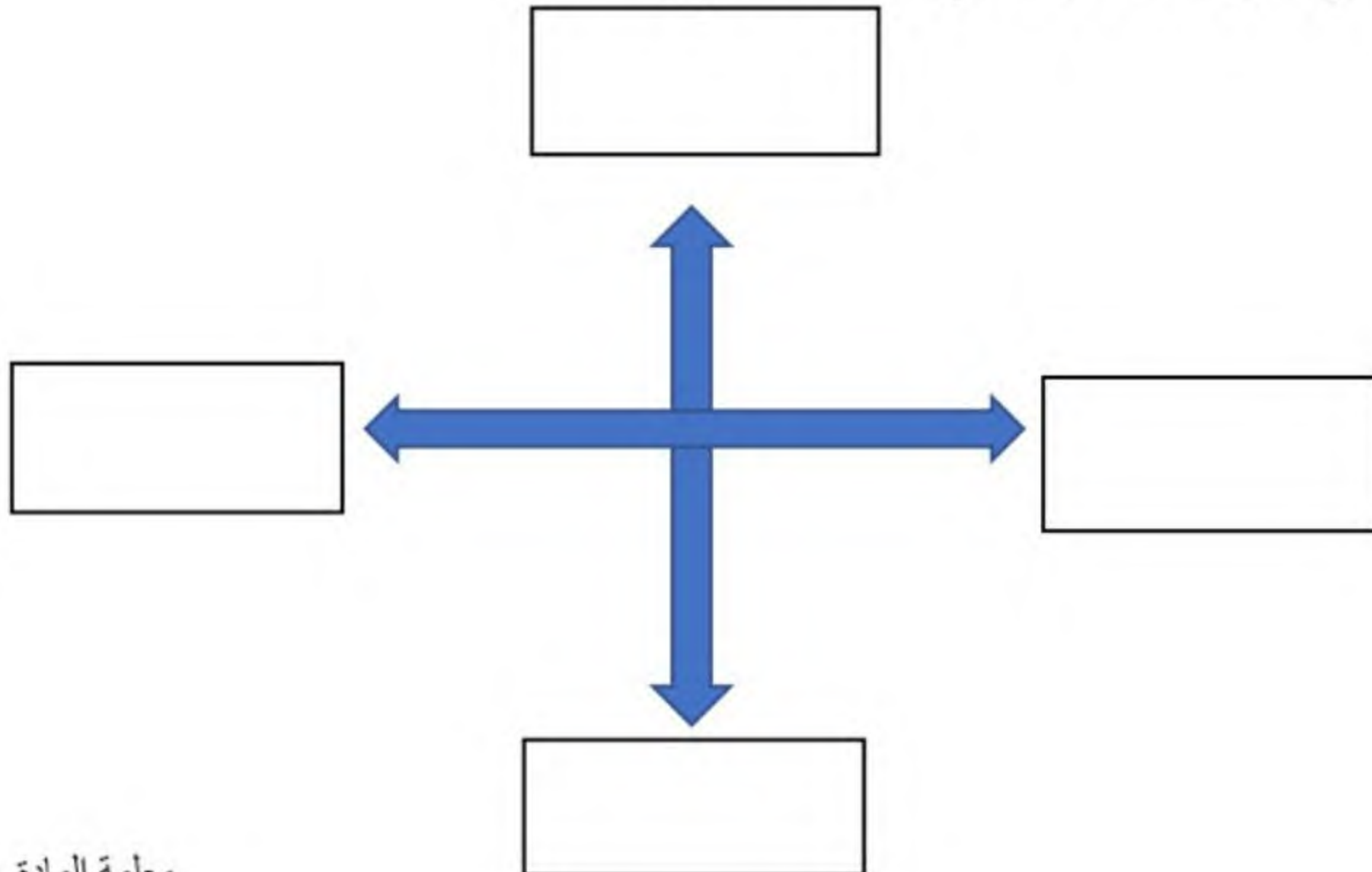
اسم الطالبة /

10

السؤال الأول : اختاري الإجابة الصحيحة فيما يلي بوضع دائرة عليها:

1	هي كل ما يتعلق بالكرة الأرضية وتكوينها وما يحدث على سطحها من ظواهر طبيعية وبشرية:
أ	التاريخ
ب	الاقتصاد
ج	الجغرافيا
2	يقع وطني في قارة :
أ	آسيا
ب	أفريقيا
ج	أوروبا
3	حينما تكون الشمس أمامي في الصباح يكون خلفي :
أ	الشرق
ب	الغرب
ج	الشمال
4	تساعدنا الخرائط على تحديد :
أ	المواقع
ب	المباني
ج	الزمن
5	عندما نحتاج إلى تحديد موقع أو مكان فإننا نسال هذا السؤال :
أ	ما هو؟
ب	أين هو؟
ج	كيف نتصرف تجاه المكان؟
6	يساعدني تحديد الجهات على معرفة لأداء الصلاة :
أ	وقت الصلاة
ب	المسافة
ج	اتجاه القبلة

السؤال الثاني : حددي الجهات الأصلية على المخطط التالي :



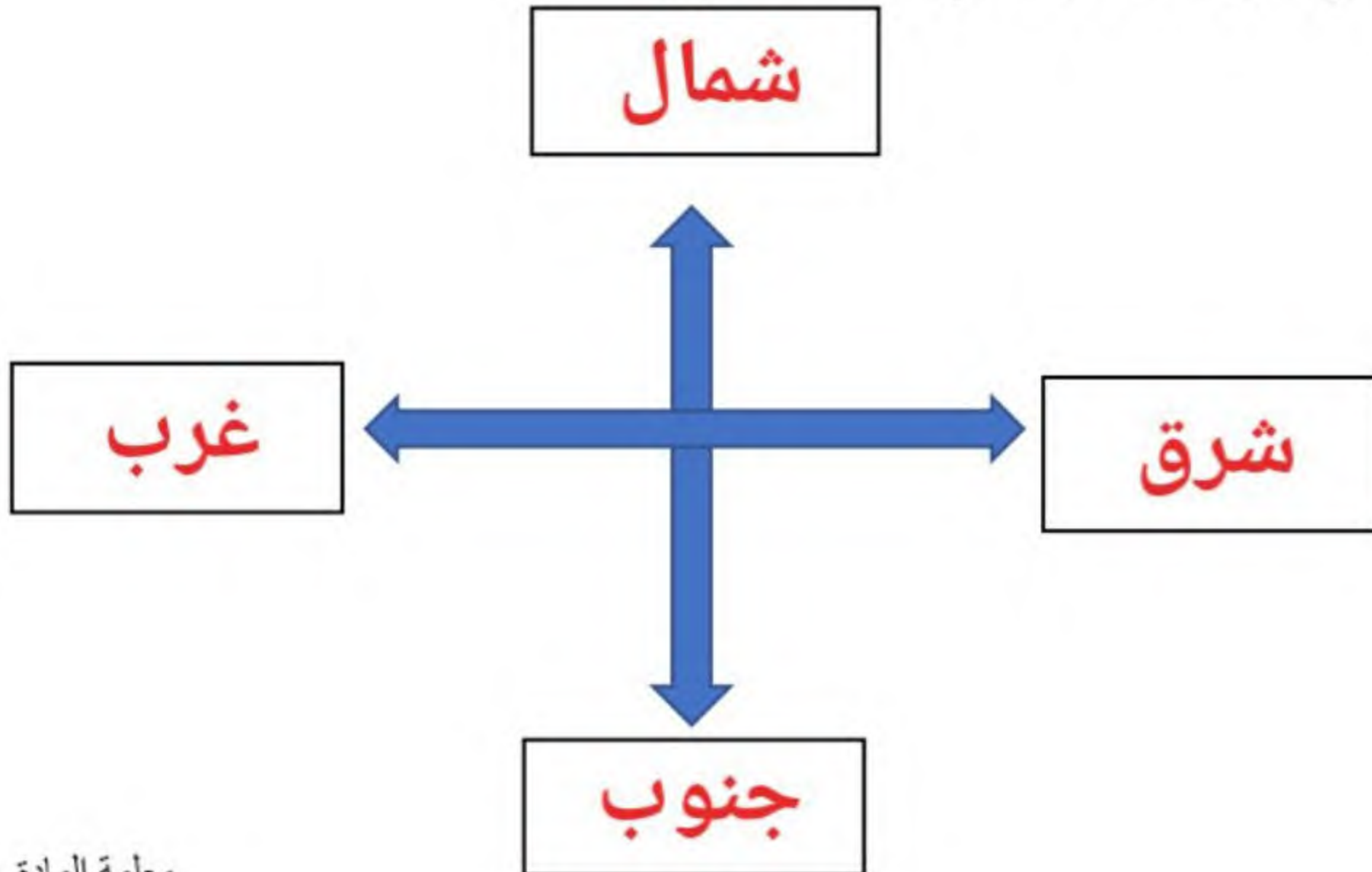
اسم الطالبة /

10

السؤال الأول : اختاري الإجابة الصحيحة فيما يلي بوضع دائرة عليها:

1	هي كل ما يتعلق بالكرة الأرضية وتكوينها وما يحدث على سطحها من ظواهر طبيعية وبشرية:	أ	التاريخ	ب	الاقتصاد	ج	الجغرافيا
2	يقع وطني في قارة :	أ	آسيا	ب	أفريقيا	ج	أوروبا
3	حينما تكون الشمس أمامي في الصباح يكون خلفي :	أ	الشرق	ب	الغرب	ج	الشمال
4	تساعدنا الخرائط على تحديد :	أ	المواقع	ب	المباني	ج	الزمن
5	عندما نحتاج إلى تحديد موقع أو مكان فإننا نسال هذا السؤال :	أ	ما هو؟	ب	أين هو؟	ج	كيف نتصرف تجاه المكان؟
6	يساعدني تحديد الجهات على معرفة لأداء الصلاة :	أ	وقت الصلاة	ب	المسافة	ج	اتجاه القبلة

السؤال الثاني : حددي الجهات الأصلية على المخطط التالي :



اختبار مادة اجتماعيات لصف الرابع الابتدائي الفترة الثانية لعام ١٤٤٧ هـ

٣٠

اسم الطالبة: نموذج الإجابة

السؤال الأول : أ- إختاري الإجابة الصحيحة في كلا مما يأتي	١١ درجات
١ يقع وطني المملكة العربية السعودية في أقصى الجنوب الغربي من قارة ،	
أ آسيا ب إفريقيا ج أوروبا د أمريكا	
٢ من الجهات الفرعية:	
أ الشرق ب الشمال ج الجنوب د الشمال الغربي	
٣ يمكن استعمال خرائط لمعرفة موقع المكان الذي نعيش فيه	
أ جوجل ب المكان ج الطبيعة د لاشي مما ذكر	
٤ انتقال الناس ونقل البضائع من مكان الى آخر	
أ المكان ب الحركة ج الطبيعة د البيئة	
٥ هي المنطقة التي يعيش فيها الانسان والحيوان والنبات	
أ الطبيعة ب الموقع ج البيئة د لاشي مما ذكر	
٦ من طرق تعديل الانسان للبيئة:	
أ الاطعمة ب ارتداء الملابس ج المدفأة د بناء المدن والجسور	
٧ تقع محمية الامير محمد بن سلمان الملكية في منطقتي	
أ المدينة المنورة تبوك ب الحدود الشمالية ج مكة المكرمة د الشرقية	
٨ انتاج غير مادي مثل	
أ التعليم في المدارس ب الأطعمة ج الادوات د جميع ما ذكر	
٩ المعلمون والأطباء وعمال البناء يعتبرون من الموارد	
أ الحيوية ب الطبيعية ج البشرية د لاشي مما ذكر	
١٠ الشخص الذي يستعمل السلع والخدمات والاشياء	
أ المستهلك ب المنتج ج الطاقة د الموارد	
١١ تعتمد الدول على التبادل بينها؛ من أجل تنمية اقتصادها	
أ الصناعي ب التجاري ج الزراعي د الحيوي	

ب- ضعي علامة (√) امام العبارة الصحيحة وعلامة ح (×) أمام العبارة الخاطئة	١٠ درجات
الجغرافي هو الذي يدرس مظاهر الارض وطبيعتها وسكانها	✓
رسم الانسان الخرائط واستعملها منذ الاف السنين	✓
<u>العنوان الوطني هو رموز وأسماء لمكان محدد تسهليسه الوصل إليه</u>	✓
في وطني أماكن كثيرة جميلة تستحق الزيارة، مثل جدة التاريخية	✓
من طرق استفادة الانسان من البيئة استخراج النفط والمعادن المختلفة من الارض	✓
نحافظ على الحياة الفطرية؛ من أجل حماية بيئتنا والاستمتاع بطبيعتها	✓
الهضاب هي منطقة جغرافية تحددها الدولة تحتوي على نباتات طبيعية وحيوانات	×
من السلع الضرورية الأطعمة والملابس	✓
انتاج مادي مثل التعليم في المدارس	×
التبادل التجاري هو تبادل السلع والخدمات بين الناس	✓

السؤال الثاني : أ- أختار المصطلح المناسب لكل مفهوم	٥ درجات
الادخار – النشاط الاقتصادي – التصحر – المكان – الجغرافيا	
المصطلح	المفهوم
الجغرافيا	هي كل ما يتعلق بالكرة الأرضية وتكوينها وما يحدث على سطحها
المكان	جزء محدد على الارض صغيراً كان أو كبيراً.
التصحر	هو تحول الاراضي الخصبة إلى أراض صحراوية مع مرور الزمن
النشاط الاقتصادي	هو انتاج السلع والخدمات، وتوزيعها، وتبادلها، واستهلاكها
الادخار	تخصيص جزء من المال وحفظه لتلبية الاحتياجات في المستقبل

ب – أذكر ما يلي	٤ درجات
❖ أنواع الطاقة	
١ - طاقة الرياح والحرارة	٢ - الطاقة الشمسية والذرية
❖ من طرق تكيف الانسان مع البيئة	
١ - بناء البيوت	٢ - ارتداء الملابس

موقع
حلول كتيبي

مع أطيب التمنيات لك بالتوفيق والنجاح الباهر
معلمة المادة /